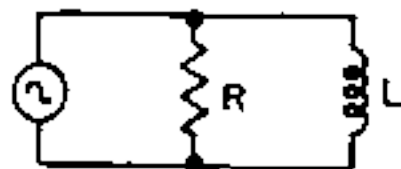
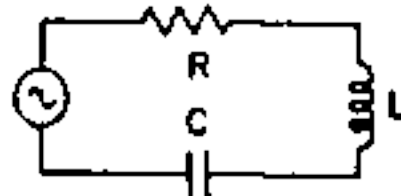


Indique a alternativa que corresponde a um circuito não-reactivo:

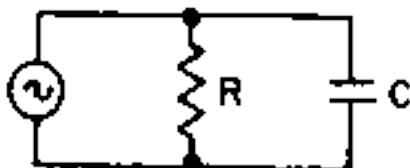
A)



C)



B)



D)



- a) A
b) B
c) C
d) D

NOTA: Se um circuito não contiver capacidade e/ou indutância, isto é, se for apenas resistivo, esse circuito é não reactivo.