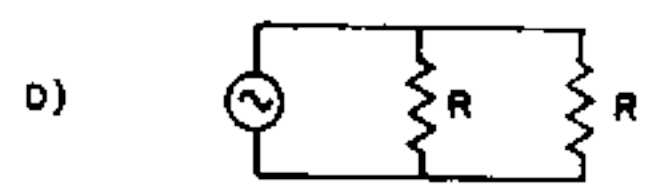
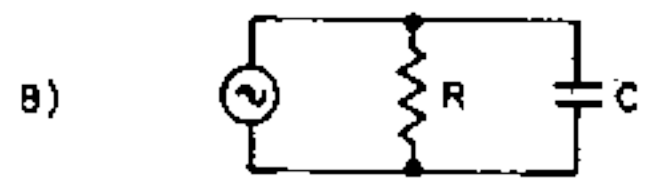
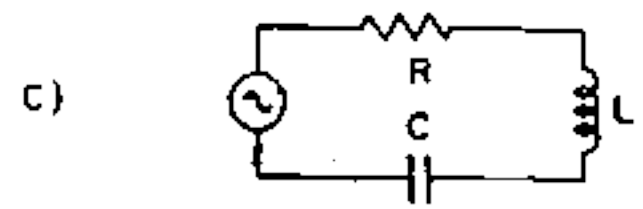
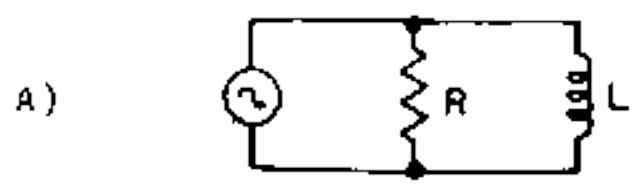


Indique a alternativa que corresponde a um circuito não-reactivo:



- a) A
- b) B
- c) C
- d) D

NOTA: Se um circuito não contiver capacidade e/ou indutância, isto é, se for apenas resistivo, esse circuito é não reactivo.